


# **N052 Marche arrière**


Observe le petit bonhomme...

**Règles :**


Il est au repos.




Il regarde en direction...  
... des positifs ... des négatifs.



Il avance.



Il recule.



Détermine le résultat des opérations suivantes en t'aidant du petit bonhomme :

a)  $(+4) - (+2)$

e)  $0 - (-8)$

b)  $(-5) - (-5)$

f)  $(+1) - (-9)$

c)  $(-6) - (+1)$

g)  $(-12) - (+8)$

d)  $(+7) - (+3)$

h)  $(+3) - (-4)$

**Exemple :**  $(-6) - (+4) = (-10)$

