



FA203 A la masse

Dans chaque situation, les balances sont équilibrées. Détermine la masse de chaque boule.

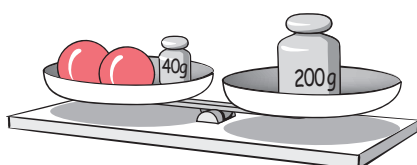
a)



c)



b)



d)

