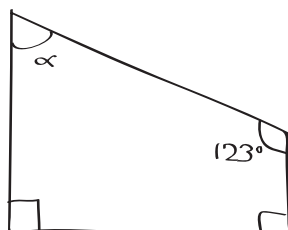


ES3 Aux angles citoyens

Calcule la mesure des angles demandés pour les quatre figures représentées ci-dessous et justifie tes résultats.

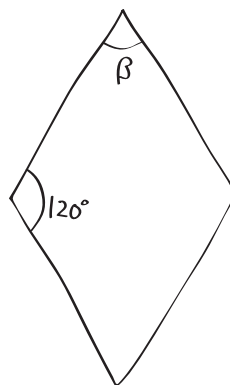
a) Nom de la figure : _____

Valeur de l'angle α : _____



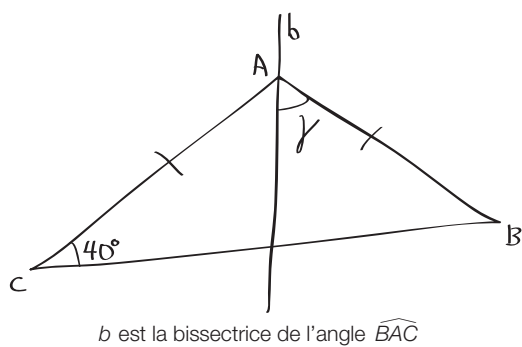
b) Nom de la figure : losange

Valeur de l'angle β : _____



c) Nom de la figure ABC : _____

Valeur de l'angle γ : _____



d) Nom de la figure : _____

Valeur de l'angle δ : _____

