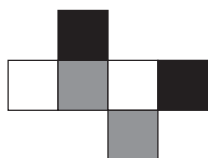


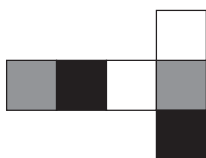
**ES49 Gris-noir-blanc**

Le(s)quel(s) de ces développements est-il (sont-ils) celui (ceux) d'un cube dont les faces opposées sont de même couleur ?


A



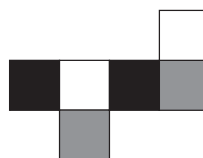
B



C



D



E

