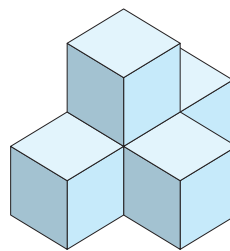
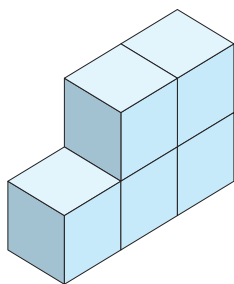
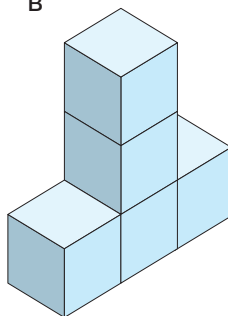
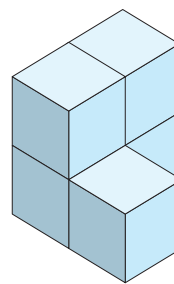
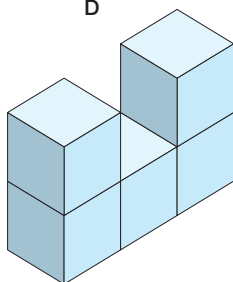


ES56 Déplacement

Caroline a construit l'assemblage dessiné à droite avec cinq cubes.

Elle déplace ensuite un seul cube.

Lequel des assemblages ci-dessous ne peut-elle pas obtenir ?

**A****B****C****D****E**