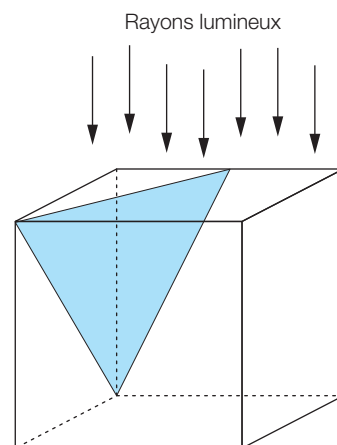


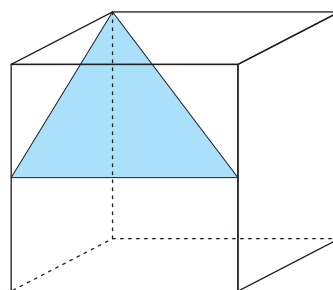
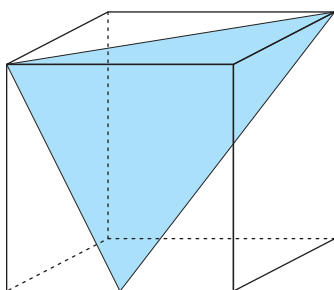
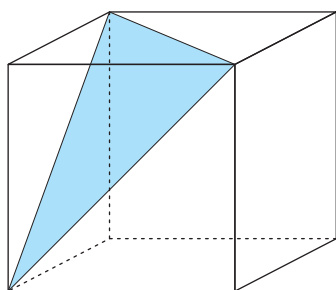
**ES59 Dans un cube**

Les sommets de ce triangle se trouvent sur les arêtes du cube.

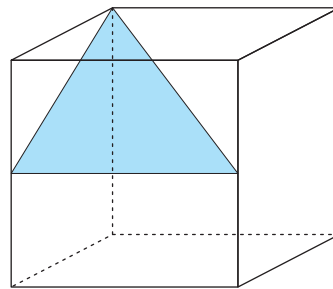
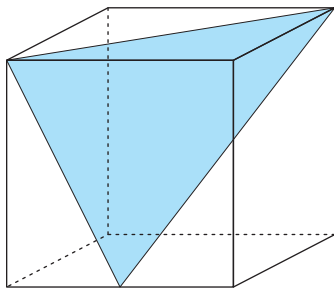
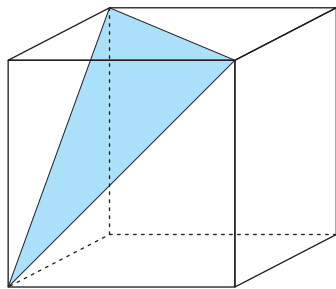
- a) Dessine l'ombre du triangle sur la face inférieure du cube, lorsque celui-ci est éclairé depuis le dessus.



- b) Fais de même pour les triangles suivants :



- c) Et s'il était éclairé depuis la gauche ?



- d) Et s'il était éclairé depuis devant ?

