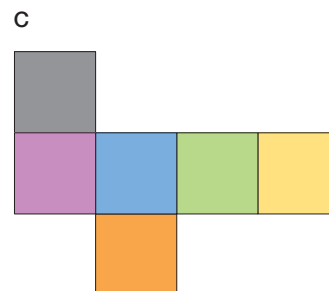
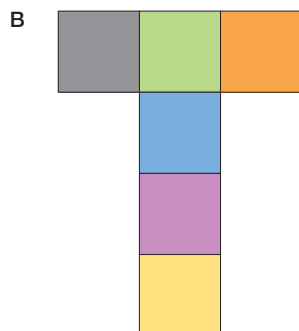
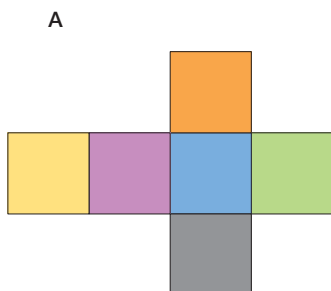


ES64 Patrons

a) Voici trois développements. S'agit-il du même cube ?



b) Lequel de ces développements est celui du cube entaillé ci-contre ?

