
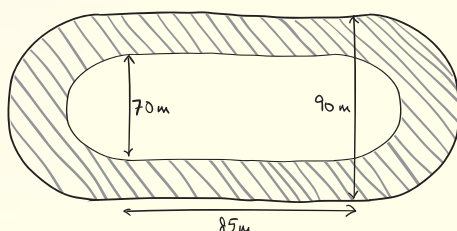


# Faire le point

1

Voici le croquis d'une piste d'athlétisme.  
Quel est le prix du revêtement de cette piste  
si 1 m<sup>2</sup> coûte Fr. 100.-?

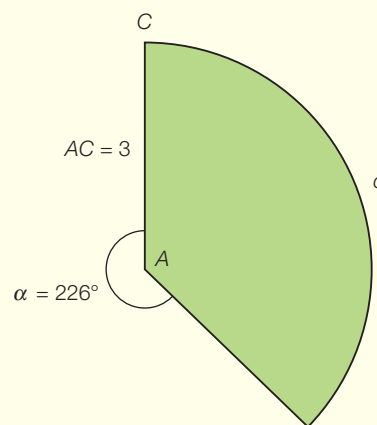


## Aide-mémoire

- Périmètre des surfaces usuelles (p. 164)
- Aire des surfaces usuelles (pp. 165 à 167)
- Calculer l'aire d'une figure (pp. 168-169)

2

On veut entourer cette rizière d'un muret afin de  
retenir l'eau. Quelle sera la longueur de ce muret?  
AC est exprimé en hectomètres.

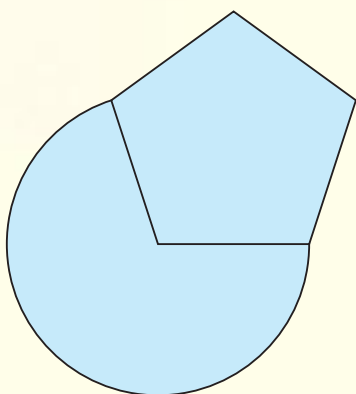


Rizières en terrasses au Viêt-Nam.

SUITE →

3

Prends les mesures nécessaires et calcule l'aire de la figure ci-dessous.



4

Un disque a un périmètre de 25,13 cm. Quelle est l'aire de ce disque?

