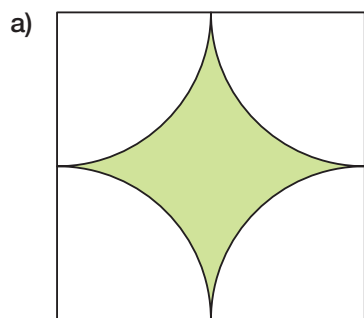
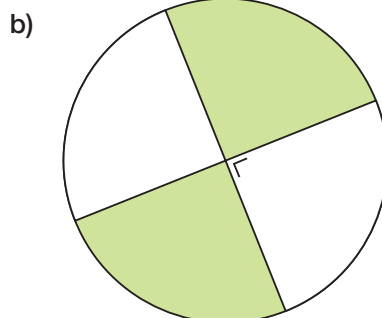


**GM38 Secteurs et arcs**

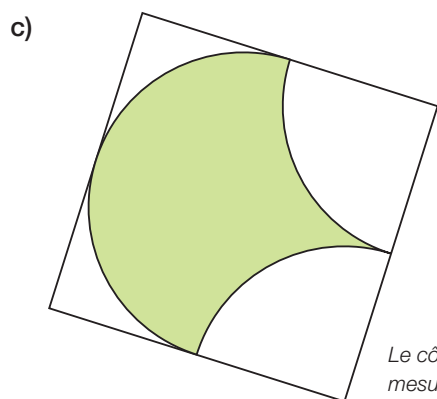
Calcule le périmètre et l'aire des figures colorées.



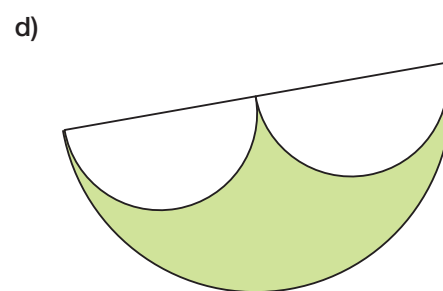
Le côté du carré mesure 5 cm.



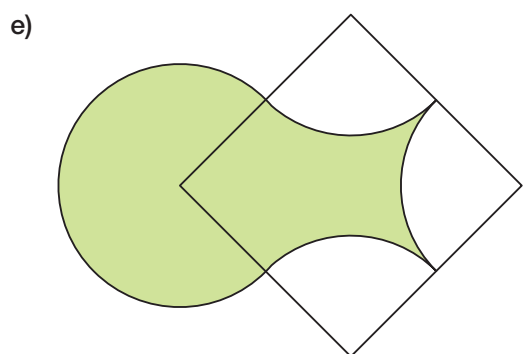
Le rayon du cercle est de 3 cm.



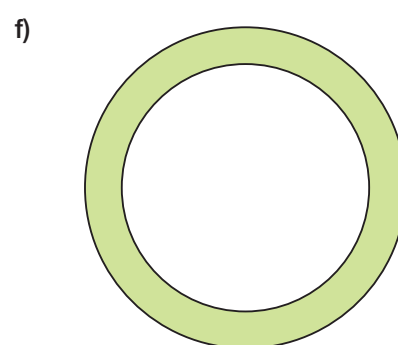
Le côté du carré mesure 4 cm.



Le diamètre du grand demi-cercle est de 14 cm.



Le côté du carré mesure 8 cm.



Les rayons des cercles sont de 9 cm et 12 cm.