

Que sais-je?

Aide-mémoire

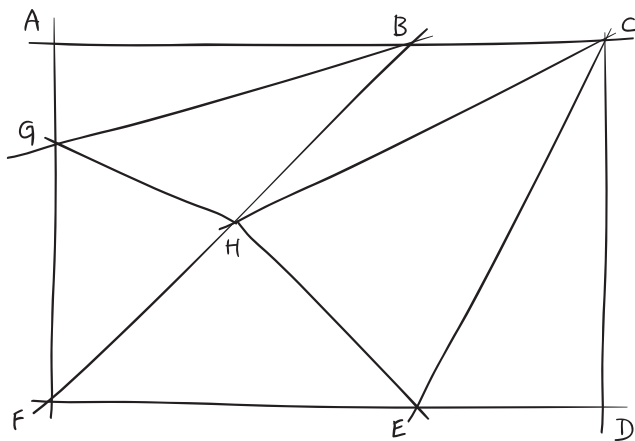
- Triangles particuliers (p. 114)
 - Somme des angles d'un triangle (p. 116)
- Activités**

Activités

- GM49 à GM51

- 1 Cite tous les triangles qui te paraissent rectangles dont les sommets peuvent être les points A, B, C, D et E.

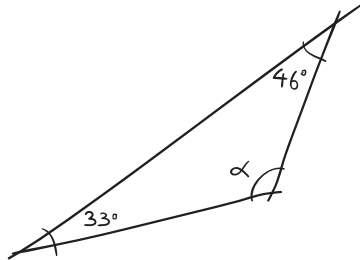
- 2 Nomme tous les triangles rectangles tracés dans ce rectangle et justifie tes propositions. Colorie en rouge leur hypoténuse.



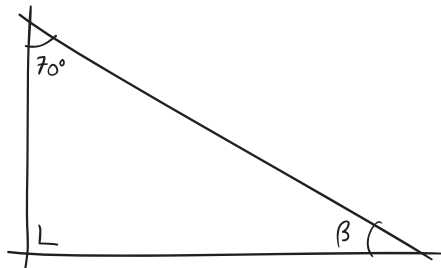
SUITE →

3 Quelles sont les mesures des angles α , β , γ , et δ des croquis ci-dessous?

a)



b)



c)

