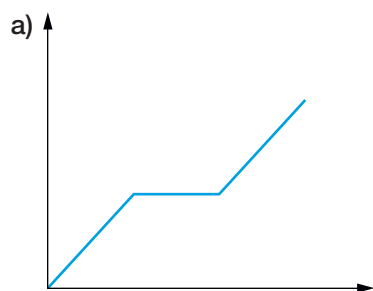


**FA129 Numérote!**

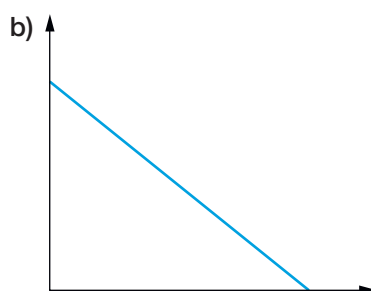
Voici quelques situations. Les graphiques correspondants sont dessinés ci-dessous.

A toi de les numéroté correctement et d'indiquer sur les axes les grandeurs représentées en précisant les unités choisies (par ex. : distance en km, temps en h, etc.).

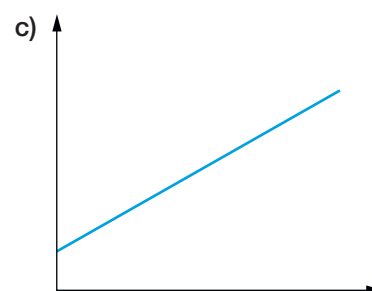
1. Notre train Lausanne–Genève est arrêté en raison de travaux sur la voie.
2. La compagnie de Taxi « Rapid » demande une prise en charge de Fr. 8.– et Fr. 3.– le kilomètre parcouru.
3. Le tarif dégressif d'un parking dépend de la durée de stationnement : Fr. 2.– la première heure, puis Fr. 1.50 / h les deux suivantes, puis Fr. 1.– / h dès la quatrième heure.
4. Lors de mon trajet à vélo Morat–Yverdon, j'ai roulé à vitesse constante et effectué une pause à mi-chemin.
5. Mon pneu doit être crevé. En effet, il se dégonfle régulièrement.
6. C'est le temps des cerises! 9 francs le kilo, Mesdames et Messieurs!



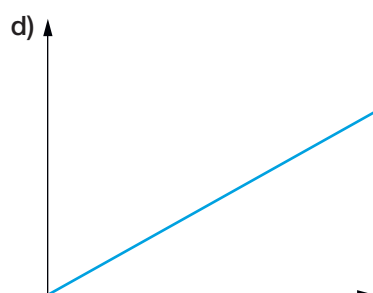
Situation n° \_\_\_\_\_



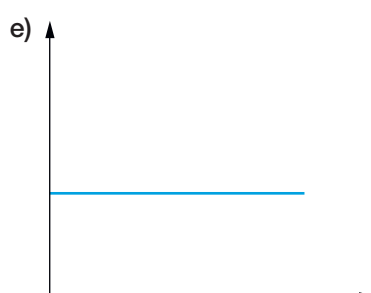
Situation n° \_\_\_\_\_




Situation n° \_\_\_\_\_



Situation n° \_\_\_\_\_



Situation n° \_\_\_\_\_



Situation n° \_\_\_\_\_