


**FA259 Les masses**

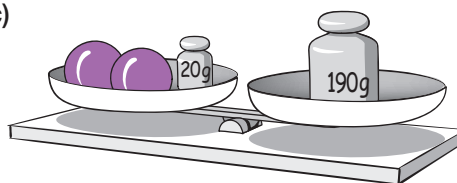
Dans chaque situation, les balances sont équilibrées.

Détermine la masse de chaque boule.


a)



c)



b)



d)

