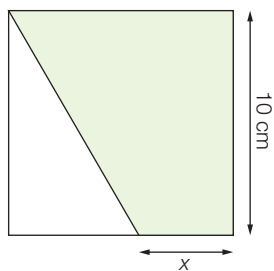
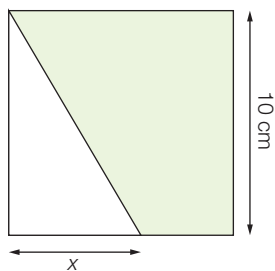
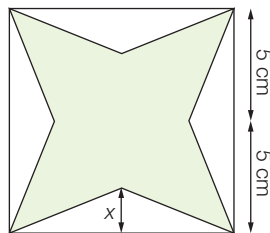


FA291 80 cm²

Pour chacun des carrés suivants, calcule la valeur de x pour que l'aire de la surface colorée soit égale à 80 cm².

1.**2.****3.****4.**