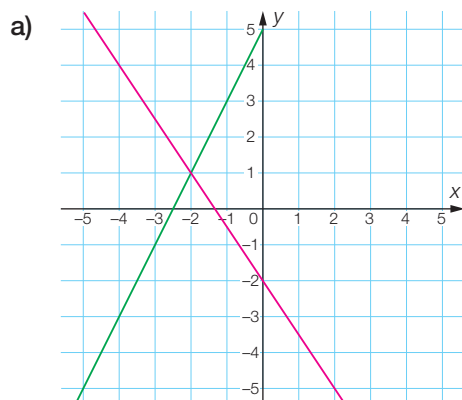


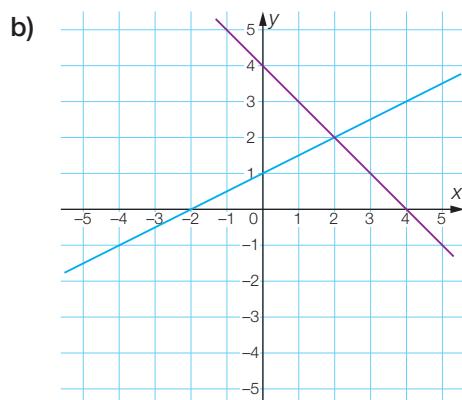
FA298 Graphiquement

Relie chaque représentation graphique au système d'équations qu'il représente.

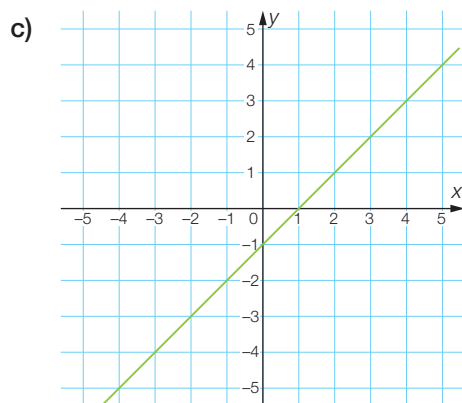
Pour chaque paire ainsi formée, donne l'ensemble de solutions du système d'équations.



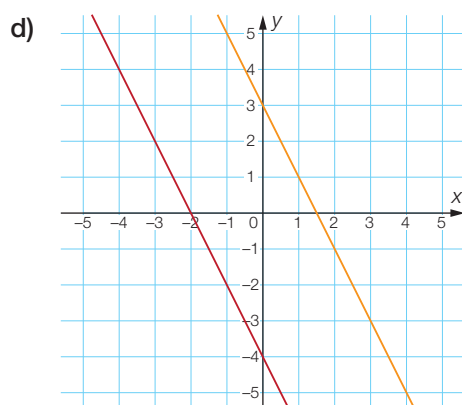
1.
$$\begin{cases} 3y = 3x - 3 \\ y = x - 1 \end{cases}$$



2.
$$\begin{cases} y = -\frac{3}{2}x - 2 \\ y = 2x + 5 \end{cases}$$



3.
$$\begin{cases} 2x + y = 3 \\ y = -2(x + 2) \end{cases}$$



4.
$$\begin{cases} x - 2y = -2 \\ x + y = 4 \end{cases}$$