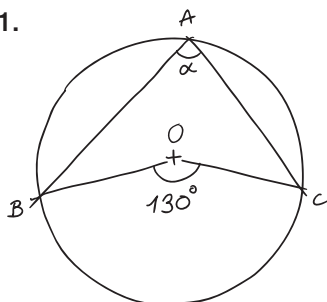


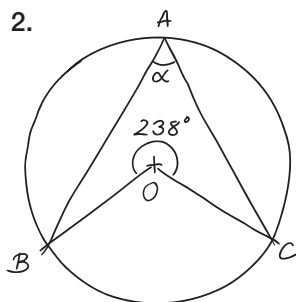
ES21 Cercles et angles

- a) Pour chaque figure, les points A , B , C , et D pour la dernière, appartiennent au cercle de centre O . Calcule, dans chaque cas, la valeur de l'angle α .

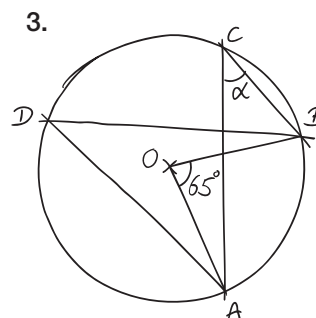
1.



2.



3.



- b) Cite tous les angles inscrits isométriques de la figure de l'exercice ES18 c).