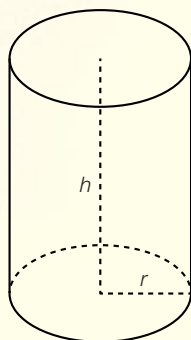


## Faire le point

1

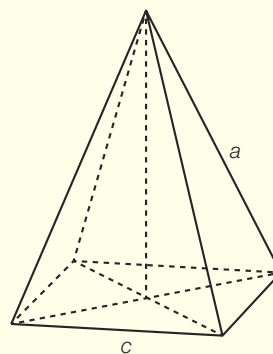
Construis un développement de chacun des solides suivants.



Cylindre

$$r = 2 \text{ cm}$$

$$h = 3 \text{ cm}$$



Pyramide à base carrée

$$c = 2 \text{ cm}$$

$$a = 3 \text{ cm}$$

### Aide-mémoire

- Représentation d'un objet dans l'espace (pp. 142-143)
- Prisme droit (p. 145)
- Cylindre droit (p. 149)
- Pyramide (p. 147)

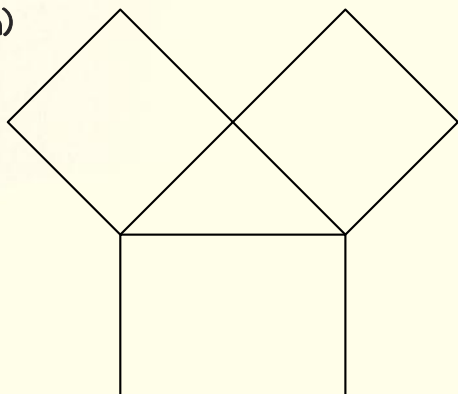
SUITE →

2

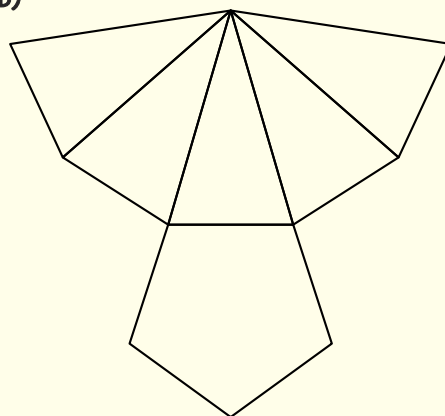
Les développements ci-dessous sont-ils corrects?

Corrige-les lorsqu'ils sont faux, puis donne le nom précis des solides représentés.

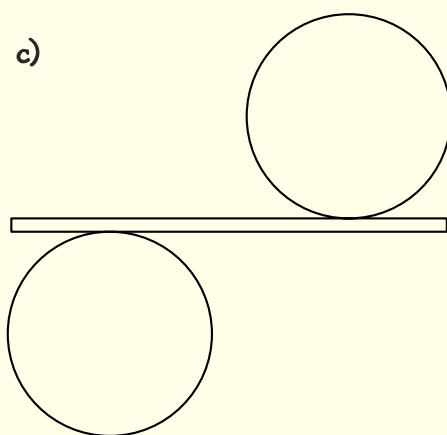
a)



b)



c)



d)

