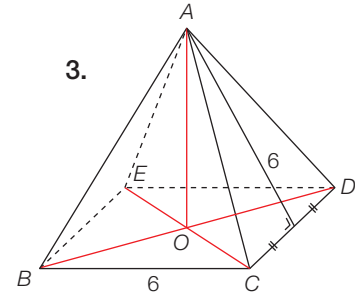
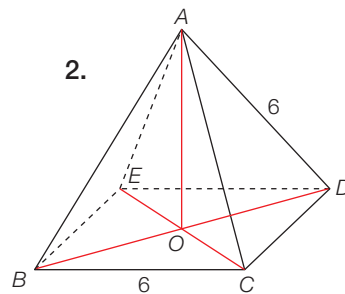
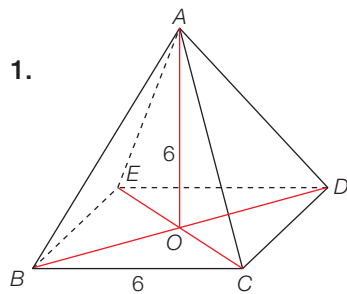


**GM112 Les trois pyramides**

- a) En observant les mesures indiquées et sans faire de calculs, classe ces trois pyramides à base carrée en fonction de leur volume.
- b) Vérifie ton classement en calculant le volume de chacune d'elles.



Mesures exprimées en décimètres