

Que sais-je?

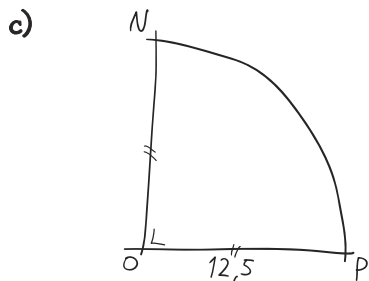
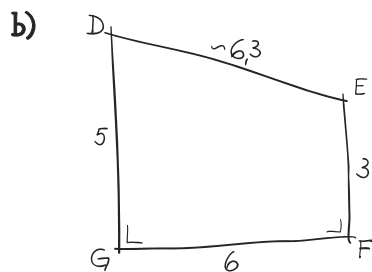
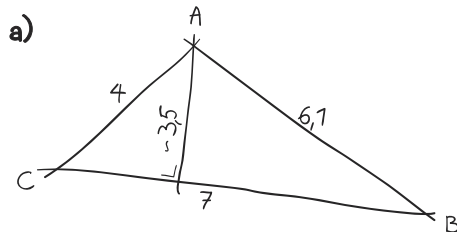
Aide-mémoire

- Aire des surfaces usuelles (pp. 165 à 167)
- Calculer l'aire d'une figure (pp. 168-169)
- Périmètre des surfaces usuelles (p. 164)

Activités

- GM1 et GM2

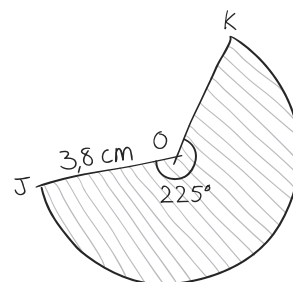
1 Calcule l'aire des figures suivantes (mesures en cm) :



2 Calcule l'aire d'un disque dont le diamètre mesure 15 cm.

SUITE →

- 3 Que vaut le périmètre de la figure hachurée?



- 4 Calcule l'aire de ce secteur circulaire.

