


NO119 Marche avant


Observe le petit bonhomme...

Règles:


Il est au repos.



Il regarde en direction...
... des positifs ... des négatifs.



Il avance.



Détermine le résultat des opérations suivantes
en t'aidant du petit bonhomme :

- | | |
|------------------|------------------|
| a) $0 + (+3)$ | e) $(+8) + (+4)$ |
| b) $0 + (-3)$ | f) $(-7) + (-2)$ |
| c) $(-4) + (+5)$ | g) $(-4) + (+2)$ |
| d) $(+3) + (-5)$ | h) $(+7) + (-2)$ |

Exemple: $(+8) + (-5) = (+3)$

