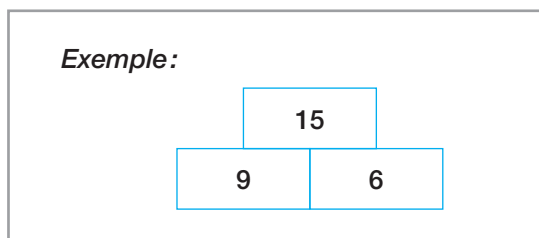
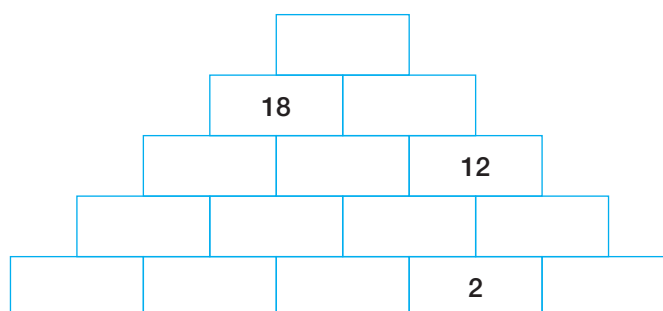


### N016 Pyramides de nombres naturels

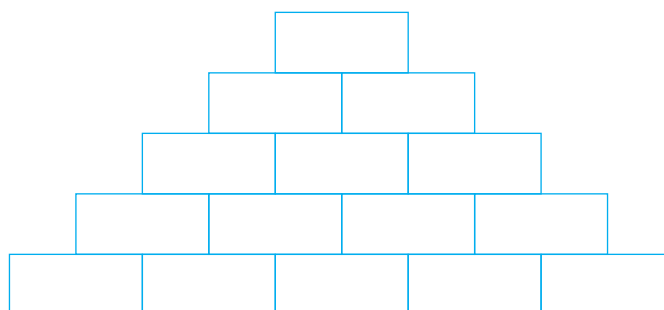
Dans ces pyramides, chaque nombre est la somme des deux nombres sur lesquels il repose.



- a) Complète cette pyramide dont la base est formée des nombres 1, 2, 3, 4 et 5.



- b) Comment obtenir le plus grand nombre au sommet avec, à la base, les nombres 1, 2, 3, 4 et 5 ?



- c) Et avec les nombres 1, 2, 3, 4, 5 et 6 ?

