

NO4 Ecritures mathématiques

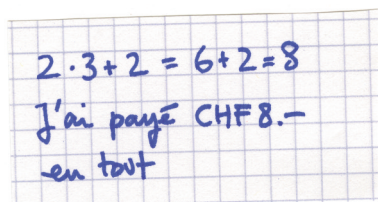
Le problème suivant a été posé à Monique, Stéphane et François :

J'ai acheté pour mon pique-nique deux sandwiches coûtant Fr. 3.– chacun et un thé glacé à Fr. 2.–.

Combien ai-je payé en tout ?


Voici les réponses proposées par Monique, Stéphane et François :

Monique


$$2 \cdot 3 + 2 = 6 + 2 = 8$$

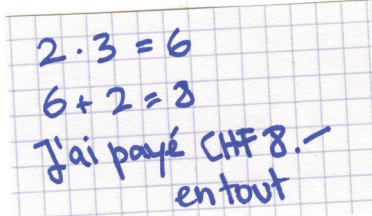
J'ai payé CHF 8.-
en tout

Stéphane

~~$$2 \cdot 3 = 6 + 2 = 8$$~~

J'ai payé CHF 8.-
en tout

François


$$2 \cdot 3 = 6$$
$$6 + 2 = 8$$

J'ai payé CHF 8.-
en tout

Stéphane ne comprend pas pourquoi son opération a été tracée par le professeur, alors que sa réponse est juste. Et toi ?