



FA4 Allumettes

Le premier carré nécessite 4 allumettes, le deuxième nécessite 12 allumettes et le troisième en nécessite 24.


De combien d'allumettes a-t-on besoin pour faire, de la même façon, un grand carré de 10 allumettes de côté ?



A



B



C