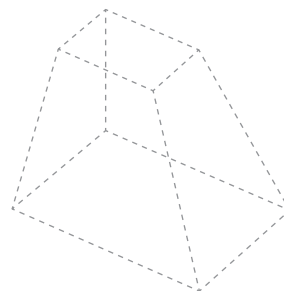
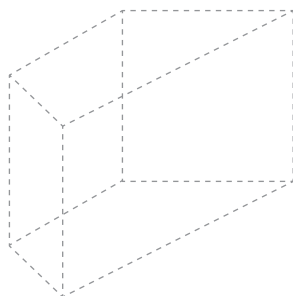
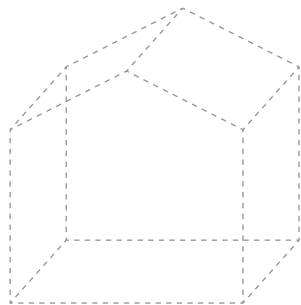
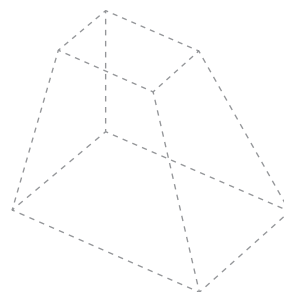
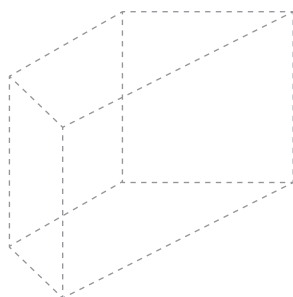
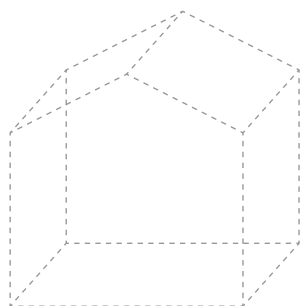


ES102 Dessus et dessous

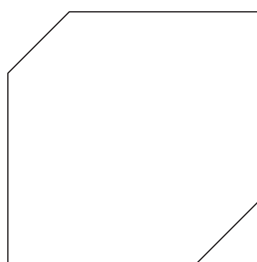
a) Dessine en rouge les arêtes visibles de ces solides s'ils sont vus de dessus.



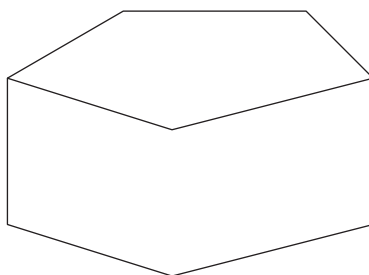
b) Dessine en rouge les arêtes visibles de ces solides s'ils sont vus de dessous.



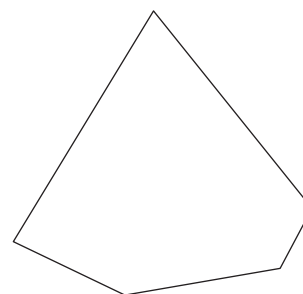
c) Dessine les arêtes manquantes de ces solides, en trait continu pour celles qui sont visibles, en traitillé pour celles qui sont cachées.



cube



prisme droit



pyramide à 6 faces