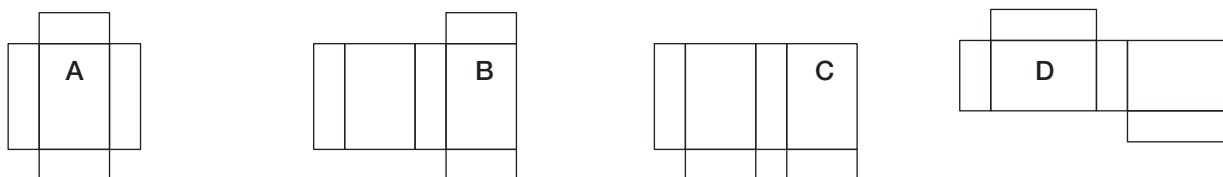
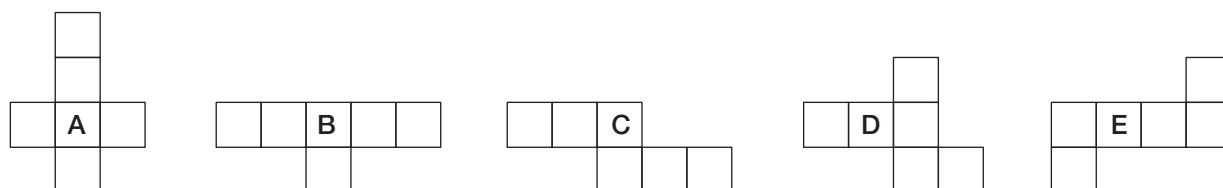


ES106 Quels développements ?

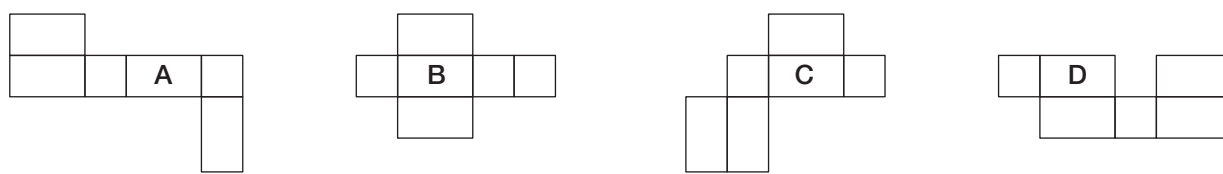
- a) Deux développements de ce parallélépipède rectangle sont inexacts. Chasse les intrus en les barrant.



- b) Un développement de ce cube est inexact. Chasse l'intrus en le barrant.



- c) Barre le ou les développement(s) inexact(s) de ce parallélépipède rectangle.



- d) Barre le ou les développement(s) inexact(s) de ce prisme droit.

