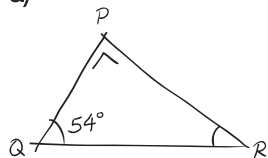


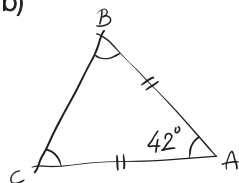
**ES45 Calculs d'angles**

Calcule la mesure de chacun des angles de ces triangles, représentés à l'aide de croquis, et efforce-toi de justifier tes résultats par des écritures mathématiques.

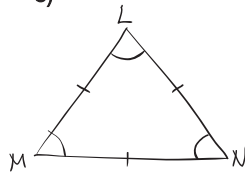
a)



b)



c)



d)

