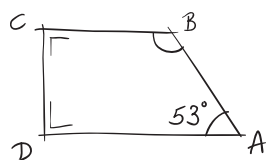


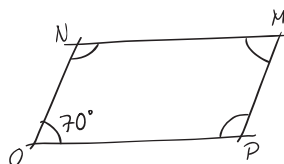
ES94 D'autres calculs d'angles

Calcule la mesure de chacun des angles de ces figures, représentées à l'aide de croquis ; efforce-toi de justifier tes résultats par des écritures mathématiques.

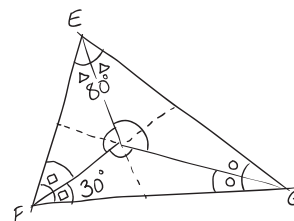
a) Trapèze rectangle



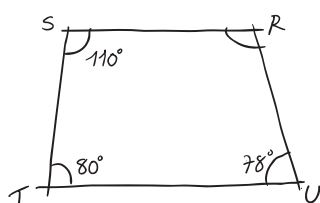
b) Parallélogramme



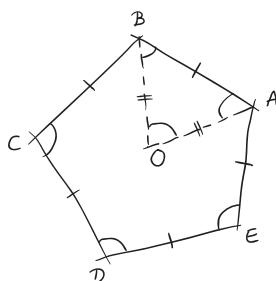
c) Triangle



d) Quadrilatère



e) Pentagone régulier



f) Trapèze isocèle

