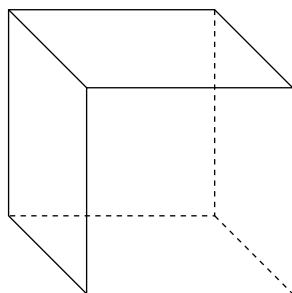


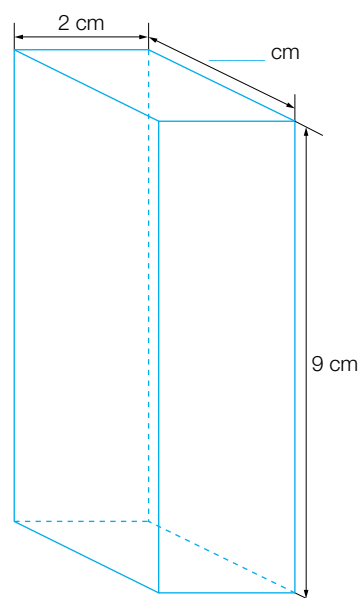
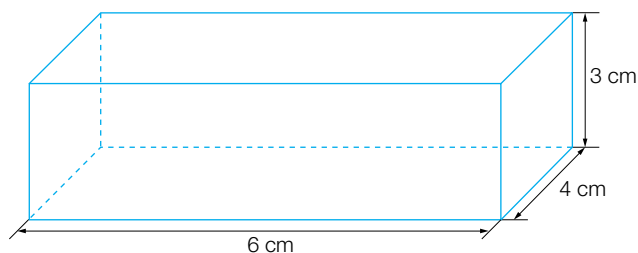
Que sais-je?

- 1 L'arête de ce cube a une longueur de 2 dm.



- a) Quel est son volume?
b) Quelle est son aire totale?

- 2 Ces deux parallélépipèdes rectangles ont le même volume.
Quelle est la mesure de la dimension manquante?



Aide-mémoire

- Unités de volume et de capacité (pp. 158-159)
- Volume des solides usuels (pp. 170-171)
- Calculer le volume d'un solide (p. 172)
- Aires des surfaces usuelles (pp. 165-167)
- Calcul de la mesure d'une grandeur à partir d'une formule (p. 83)
- Utiliser une formule pour calculer une mesure de grandeur (p. 83)

Activités

- GM54 et GM55